







# PRVÉ POČTY 123

LOGICKÉ HRY S TVARMÍ, ČÍSLAMI A ČÍSLICAMI



Námet a ilustrácie: Mária Nováková

Podľa počtu bodiek na krídlach spoj líenky s kvetmi s rovnakým počtom lupienkov.

1 2 3 4 5 6 7 8 9 10



## ČO CHCEM ?

Chcem mať **ŠŤASTIE**, dobré **ZDRAVIE**,  
dýchať **VZDUCH**, čo z lesa vanie.

Chcem si **CHLEBÍK** zo pšeničky,  
zapiť **VODOU** zo studničky.

Vidieť **SLNKO**, počuť **VTÁČKY**,  
mať v izbičke **KNIŽKY**, **HRAČKY**.

Chcem sa s **OCKOM**, **MAMKOU** smiať,  
s **KAMARÁTMÍ** v škôlke hrať.

Spoznať veľkú **LÁSKU** z neba !

JE TO MÁLO A ČI VEĽA ?



STARÍ RODIČIA



LÁSKA



JEDLO, VODA



ZDRAVIE



OBLEČENIE



ŽIVOČÍCHY



# PRVÉ POČTY 123


LOGICKÉ HRY S TVARMI, ČÍSLAMI A ČÍSLICAMI




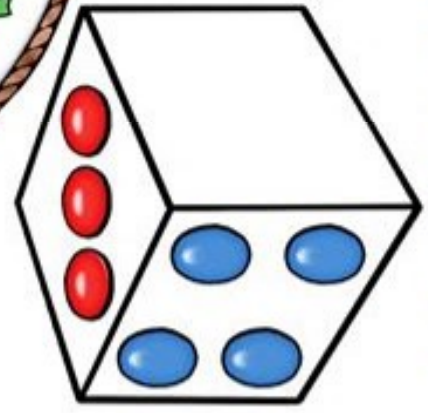
## DOKRESLI DO



# 10



2+	<input type="text"/>	=	10
4+	<input type="text"/>	=	10
5+	<input type="text"/>	=	10
6+	<input type="text"/>	=	10
7+	<input type="text"/>	=	10



Námet a ilustrácie: Mária Nováková

Obrázky dokresli trojuholníkmi, cukríkmi, bodkami, kvietkami a guľôčkami tak, aby ich bolo 10.  
Ak si školiák, pridať ku každému obrázku správny príklad v tabuľke a dopísať aj chýbajúcu číslicu.










MOJA PRVÁ

# MATEMATIKA



LOGICKÉ HRY S TVARMÍ, ČÍSLAMI A ČÍSLICAMI



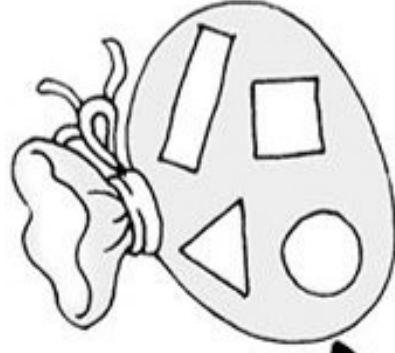






Namet a ilustrácie: *Mária Nováková*

Do okienok NAPIŠ ČÍSLICOU alebo označ KRÚŽKAMI počet obrázkov na konci cestíček.

# MOJA PRVÁ

# MATEMATIKA

LOGICKÉ HRY S TVARMÍ, ČÍSLAMI A ČÍSLICAMI

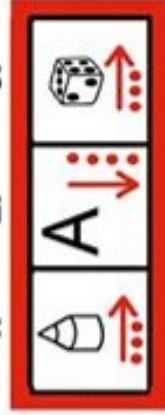




# LABYRINT SO SMEROVOU ORIENTÁCIOU A POČÍTANÍM

Pomocou šípiek, znakov a počtu v tabuľkách zistiš, pri ktorej zábave, hre alebo športe sa stretnú Janko s Aničkou vždy spolu. Začni v označenom poličku siete.

1. 2. 3.



4. 5. 6.



Ice cream	Die	Die	Ice cream	Ice cream	Ice cream	Die	Die	5	X	A	Ice cream	Die	X
Ice cream	+	+	+	+	Die	Die	5	X	X	A	Ice cream	Ice cream	5
Ice cream	A	A	A	A	A	A	5	X	X	A	Ice cream	A	5
Ice cream	A	A	A	A	Die	Die	5	+	+	A	X	A	Die
Ice cream	+	+	+	+	Die	Die	5	+	+	A	Ice cream	X	Die
X	5	5	5	Die	Die	Die	5	5	+	A	Ice cream	Die	X



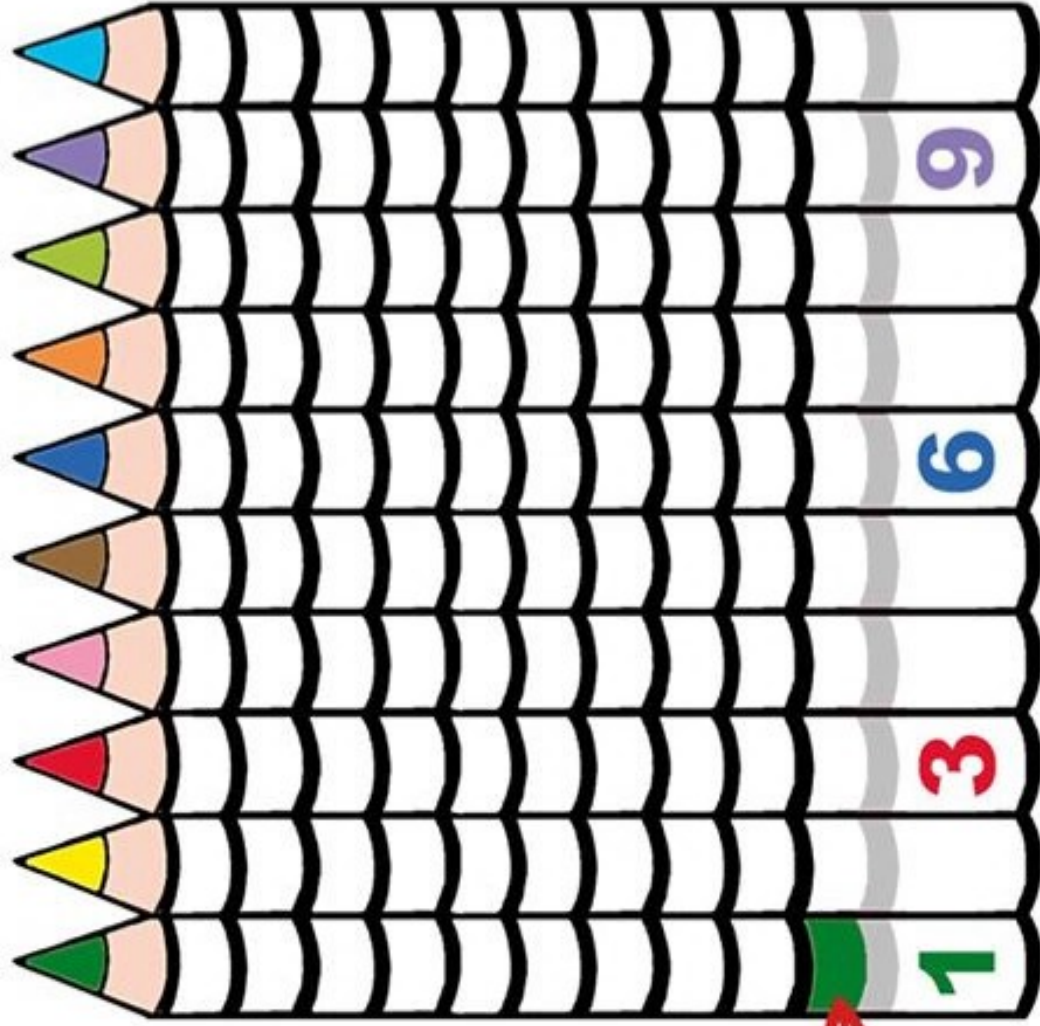



# MOJA PRVÁ

# MATEMATIKA



LOGICKÉ HRY S TVARMI, ČÍSLAMI A ČÍSLICAMI



**1.** NAJKÓR DOPÍŠ  
NA PASTELKY  
V SPRÁVNOM  
PORADÍ CHÝBA-  
JÚCE ČÍSLICE  
**1-10**

**2.** PODĽA VZORU  
NA ZELENEJ  
PASTELKE  
VYFARBI  
ZDOLA NAHOR  
ROVNAKÝ POČET  
POLÍČOK  
VO FARBE  
PASTELKY

Vyneš obrázkové príklady a podľa výsledku vyfarbi iba správnu číslicu.

+ = 5 2 6 10 4 7

+ = 5 2 6 10 4 7


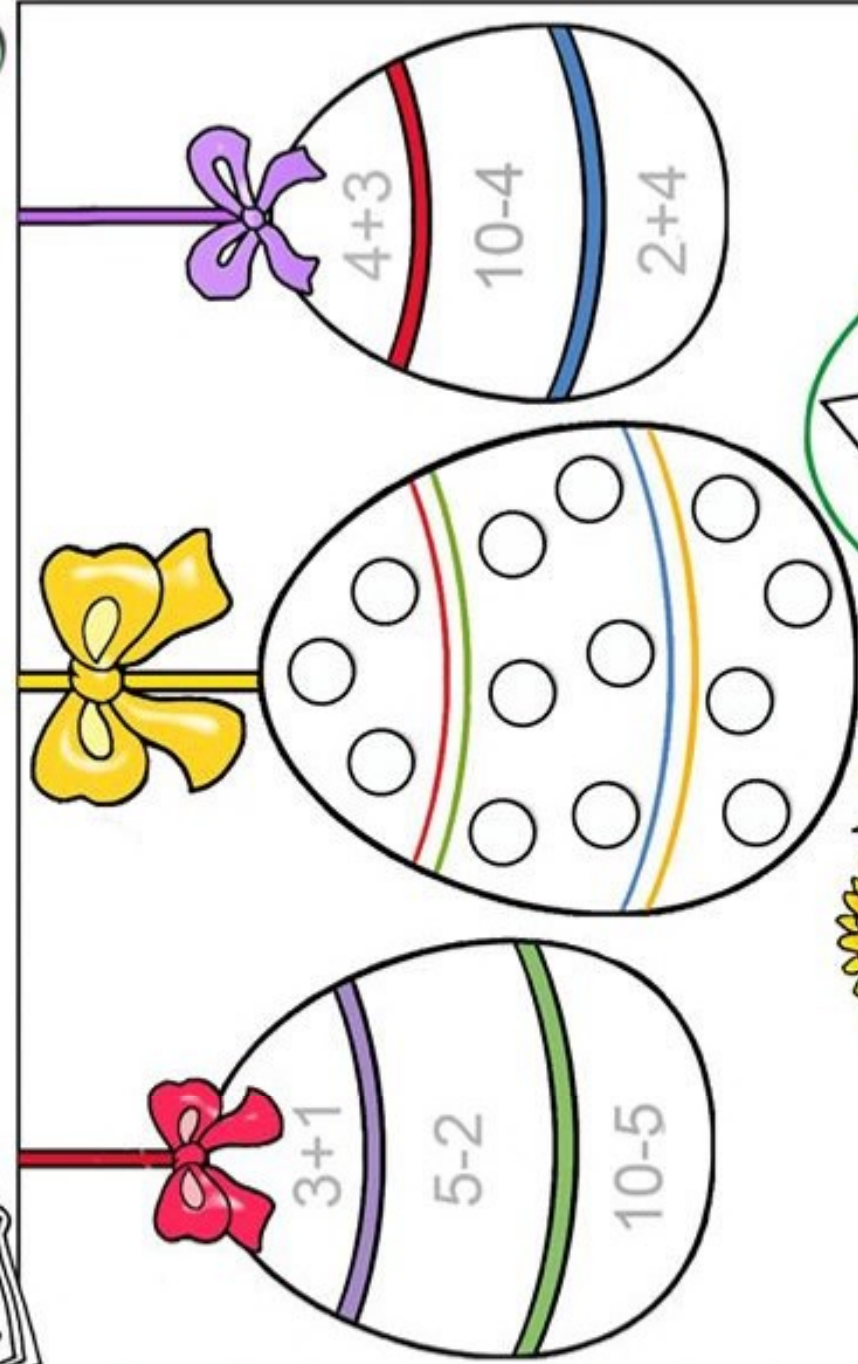
+ = 5 2 6 10 4 7

+ = 5 2 6 10 4 7



# PRVÉ POČTY 123

LOGICKÉ HRY S TVARMI, ČÍSLAMI A ČÍSLICAMI



Námet a ilustrácie: Mária Nováková


**Školáci** vylarbia tvary na kraslicach podľa výsledku príkladov a škrvny s rovnakým počtom bodiek.  
**Škôlkari** zase spočítajú tvary na kraslicach a vylarbia ich podľa machufky s rovnakým počtom bodiek.





# PRVÉ POČTY 123

LOGICKÉ HRY S TVARMI, ČÍSLAMI A ČÍSLICAMI



$3+1$

$5-2$

$2+3$

$4-2$

$1+5$

$6-5$

$0+1$

$6-4$

$3+3$

$1+2$

$6-1$

$2+2$

1

2

3

4

5

6

Spočítaj príklady v krasličkách a vyfarbi ich podľa výsledku vo farebných machuľkách. Nakoniec vyfarbi kraslice v košíku podľa farebných pásov tak, aby boli rovnaké ako kraslice na okne.